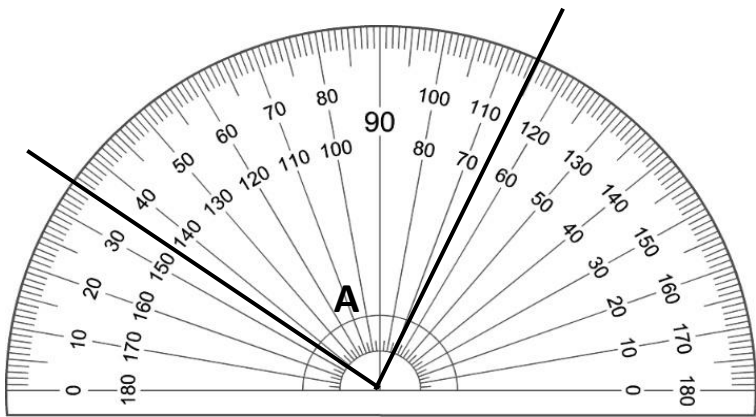



七、認識角度。共 15%

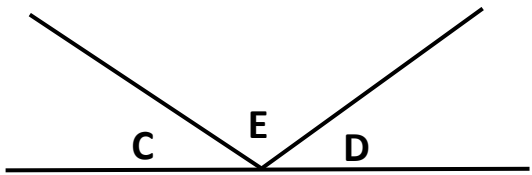
(1) $\angle A = (\quad)$



(2) 量量看， $\angle B = (\quad)$



(3) 想一想算算看， $\angle C = \angle D = 35^\circ$ ，那 $\angle E = (\quad)$



(4) 用量角器畫出 125° 的 $\angle F$ 。3%

(5) 接上面五題，回答問題。6%

$\angle A$ 、 $\angle B$ 、 $\angle C$ 、 $\angle D$ 、 $\angle E$ 、 $\angle F$ 各是什麼角？

① 哪些角是銳角？()

② 哪些角是鈍角？()

九、看表格把作法用算式記下來。15%

2024 桃園市第四屆大觀盃海洋國際馬拉松				
項 目	42K 全馬	21K 半馬	8K 健康	3.5K 親子
報名費	1100 元	950 元	650 元	400 元
限 時	6.5 小時	3 小時	2 小時	1 小時
起 跑	6:10	6:10	6:20	6:30

(1) 大華國小 有 23 位師生報名參加「8K 健康路跑」，總共要付多少報名費？

(2) 大華國小 的操場一圈是 185 公尺。為了完賽 8K 路跑，官主任 每週三都會帶著參賽學生練跑操場 25 圈，25 圈操場是幾公里幾公尺？

(3) 宗佑 爸爸參加「2024 大觀盃全馬路跑」，經過 1 個小時 35 分鐘後，他已經跑了 25 公里 800 公尺，還要跑幾公里幾公尺才會抵達終點？(寫出直式算出答案)

(4) 完成 8K 路跑後大家滿身大汗，宗佑 喝了 $\frac{16}{9}$ 瓶運動飲料，唯貞 喝了 $1\frac{6}{9}$ 瓶運動飲料，誰喝的比較多？3%